

1 GRADO

BLOQUE 1



EXAMEN MENSUAL:
OCTUBRE

Nombre del Alumno:

Grado:

Grupo:

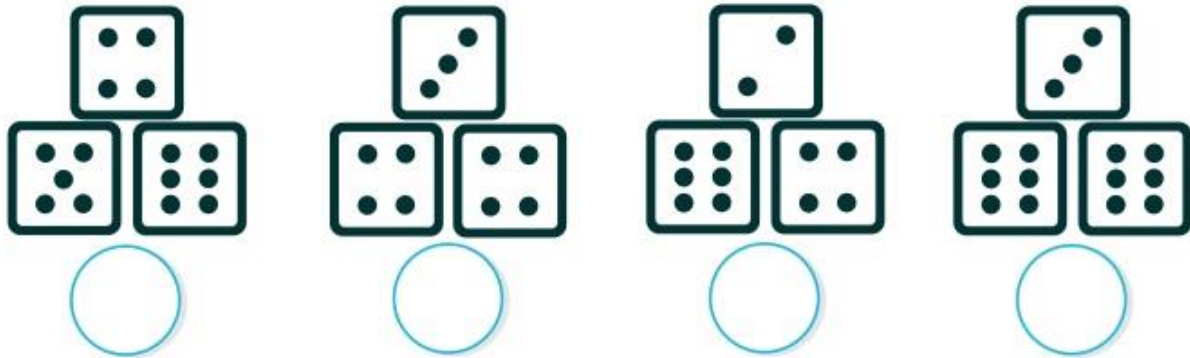
Fecha:

Nombre de la Escuela:

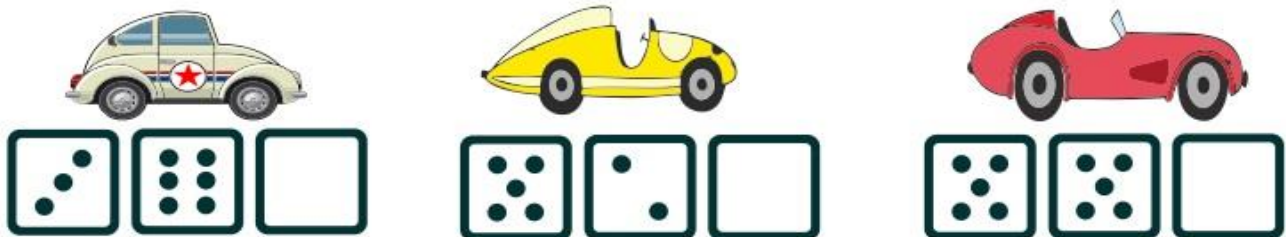
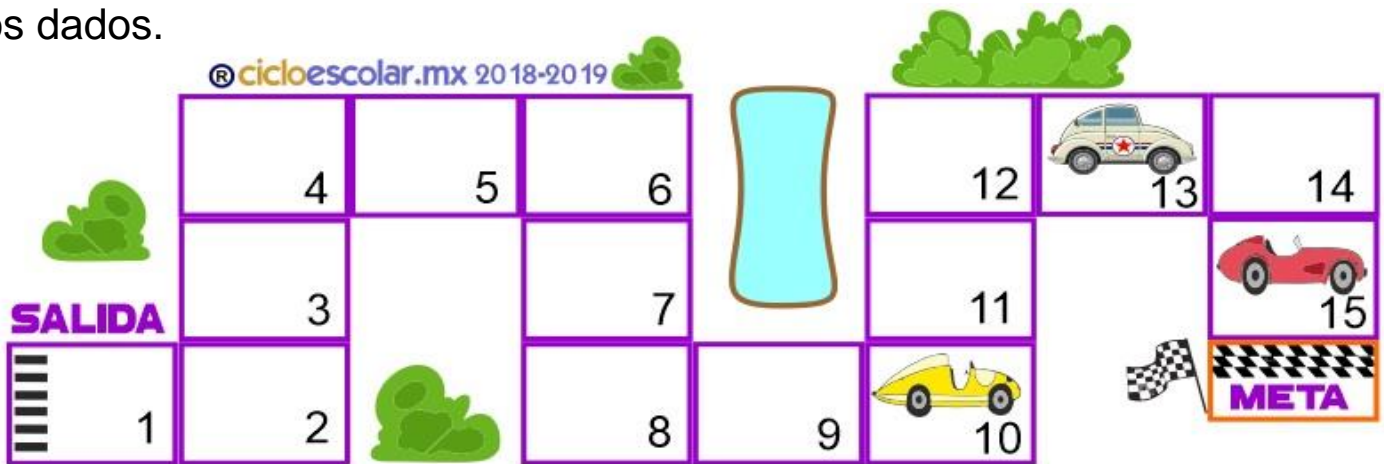
MATERIA	REACTIVOS	ACIERTOS	CALIFICACIÓN
Matemáticas	20		
Español	28		
Conocimiento del Medio	19		

Firma del padre o tutor: _____

1 al 4.- Cuenta los puntos de los dados y escribe la cantidad.



5 al 7.- Mira la posición de los tres autos y dibuja los puntos que faltan en los dados.





8 al 11.- Escribe los números que faltan.



12 y 13.- Tacha las monedas que necesitas para pagar.




14 al 16.- Anota los números que faltan.



María tenía _____ galletas,
se comió _____, ahora
tiene _____.

17 al 20.- Anota cuántos hay.



1 al 4.- Lee con atención el siguiente texto.

“El Avestruz”

Es el ave más grande y de mayor peso del mundo, aunque tiene alas no sabe volar, pero es una gran corredora. Viven en zonas áridas y semiáridas, ocupando espacios abiertos donde su altura le permite avistar los posibles depredadores.

Los avestruces se alimentan de vegetales, frutas e insectos.


Nacen de un huevo y los polluelos al nacer miden entre 25 y 30 centímetros de altura, pesando casi 1 kilo. Durante el primer año de vida los polluelos crecen 25 centímetros al mes y cuando son adultos pueden llegar a medir hasta 3 metros y pesar 180 kilos.



Completa la información.

- El avestruz es el ave más grande y de mayor peso del mundo.
- Vive en: _____
- Nacen de: _____
- Se alimentan de: _____

5 al 10.- Une cada imagen con la palabra que le corresponde.



maleta
oso
lámpara
zanahoria
hormiga
león



11 al 15.- Escribe el nombre de la imagen y subraya las palabras que empiezan igual.



tiburón

tibio

caballo

ballena

tina

frio

pulpo

camión

caliente

timido

casa

tinaco

16 al 21.- Escribe el nombre de cada dibujo y una palabra que rime con él.



rima con



rima con



rima con

22 al 25.- Subraya las palabras que terminan igual.

tiburón

maleta

oso

paleta

calceta

lentes

maceta

arbol


26 al 28.- Escribe el nombre a cada dibujo.







1 al 4.- Dibújate, escribe tu nombre y dos rasgos físicos que te caracterizan.



Mi nombre es:

Mis rasgos físicos son:

1 _____

2 _____

Observa el dibujo de un salón de clases.

Lee la información.

Jaime se sienta a la izquierda de José.

Ana se sienta en frente de María.

Rosa se sienta a la derecha de Ana.



5 al 7.- Escribe dónde se sientan:

• David _____

• Miguel _____

8.- ¿Para qué sirven los croquis?

9 al 11.- Observa el croquis y completa la descripción.



David vive a la _____ de la panaderia. Enfrente de su casa hay una _____, En frente de la iglesia esta el parque y a la _____ del parque esta la escuela.

12 al 18.- Escribe en la tabla los elementos naturales y sociales que identificas en la imagen.



Elementos naturales	Elementos sociales

19.- Marca con una el lugar donde hay más elementos naturales.



Selva



Ciudad



Campo



Playas

CicloEscolar.MX ® 2018

Este examen fue elaborado exclusivamente para www.cicloescolar.mx.

Si vas a compartir este material en tu página web, no borres esta leyenda y contarás con el permiso expreso del autor.

Visita: ***<https://www.cicloescolar.mx>***