

2 GRADO

BLOQUE 1



EXAMEN MENSUAL:
OCTUBRE

Nombre del Alumno:

Grado: Grupo: Fecha:

Nombre de la Escuela:

| MATERIA | REACTIVOS | ACIERTOS | CALIFICACIÓN |
|------------------------|-----------|----------|--------------|
| Matemáticas | 23 | | |
| Español | 19 | | |
| Conocimiento del Medio | 14 | | |

Firma del padre o tutor: _____

Observa la imagen y contesta las preguntas:



1.- ¿Cuánto tienes que pagar por dos hamburguesas, un helado y un vaso de agua de limón?

2.- Si pagas con 100 pesos por dos rebanadas de pizza, una hamburguesa y un helado. ¿Cuánto te tienen que dar de cambio?

3 al 5- ¿Que puedes comprar con 50 pesos? *Escribe al menos 3 opciones y cuánto te dan de cambio.*

6.- Michel pagó con 2 monedas de 10 pesos y le devolvieron 5 pesos de cambio. ¿Qué fue lo que compró?

Se realizó una encuesta con los alumnos de segundo grado de la escuela Benito Juárez, las respuestas se registraron en la siguiente tabla.

| Frutas | Registro | Cantidad |
|---------|-------------|----------|
| Plátano | ### // | |
| Sandia | ### //// | 9 |
| Uvas | ### ### /// | |
| Papaya | /// | |

7.- Completa el número que corresponde a cada registro.



Con la información anterior, responde las siguientes preguntas. Marca con la respuesta correcta.

8.- ¿Cuál es la pregunta de la encuesta?

- a) ¿Cuál es tu comida favorita? c) ¿Qué te gusta comer por las noches?
 b) ¿Cuál es tu postre favorito? d) ¿Cuál es tu fruta favorita?

9.- ¿Cuál es la fruta que más le gusta a la mayoría?

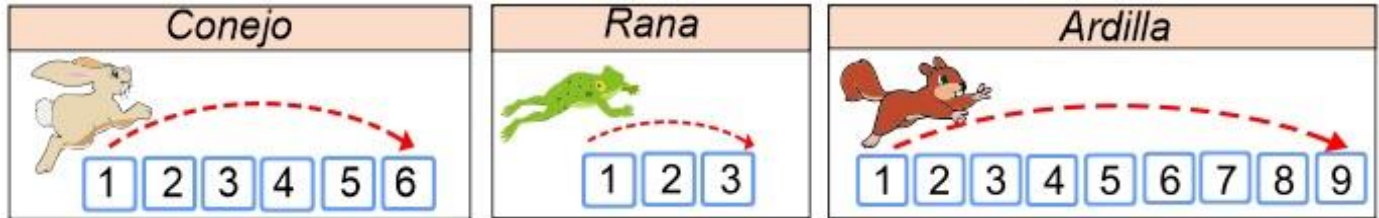
- a) El plátano c) Las uvas
 b) La papaya d) Las naranjas

10 al 16.- Anota los números que faltan.

5 10 20 25 35 40 50

3 6 12 15 18 21 30

Observa los datos de la siguiente imagen y contesta las preguntas.



17.- La ardilla brincó de 9 en 9 y cayó en el 45. ¿Cuántos saltos dio?

18.- ¿A qué número llegara la rana si salta 12 veces?

19.- ¿Cuántos saltos debe dar el conejo para llegar al 36?

20 al 23.- Anota el total de galletas para cada caso.










1.- Dibuja un **cartel** para **cuidar el planeta.**



2.- Une con una línea las cosas que se pueden reducir, reciclar y reutilizar.



3 al 9.- Completa los versos con las palabras que riman.

A las tres de la mañana
 empecé a escuchar un _____
 andaba muy ocupado
 afilando su _____.

Naranja dulce,
 limón _____
 dame un abrazo
 que yo te _____.

Anita la araña
 viajaba en _____
 usando un vestido
 de puro _____.

partido

cuchillo

avión

pido

algodón

grillo

10 al 12.- Marca con una el nombre correcto de los dibujos.



12 al 15.- Marca con una los datos que deben incluir los anuncios para ofrecer productos o servicios.

Nombre de la persona.

Horario.

Producto o servicio que ofrece.

Dirección o teléfono para localizarlo.

Lugar de nacimiento.

Nivel de estudios

16 al 19.- El señor José López es mecánico y acaba de llegar a la ciudad. **Inventa** un anuncio que le ayude a conseguir clientes.

1 al 3.- Dibuja a tu familia.

Escribe la costumbre que más te gusta de tu familia.

¿Por qué?

4 al 6.- Observa las imágenes y escribe en cada recuadro que **crees** que está conmemorando el niño.




7.- ¿Qué necesita un animal para vivir?

8.- ¿Qué es un animal terrestre?

9 al 14.- Clasifica los animales correctamente, escribe la palabra que corresponde.

- acuáticos
- terrestres
- voladores
- chicos
- grandes
- arrastran



Animales que se



Animales



Animales



Animales



Animales



Animales

CicloEscolar.MX ® 2018

Este examen fue elaborado exclusivamente para www.cicloescolar.mx.

Si vas a compartir este material en tu página web, no borres esta leyenda y contarás con el permiso expreso del autor.

Visita: <https://www.cicloescolar.mx>

Primer y segundo grado:

Cada mes puedes descargar en www.cicloescolar.mx exámenes para la evaluación mensual y trimestralmente estará disponible el examen general por bloque.

Todos los exámenes están desarrollados con base a los planes y programas del Nuevo Modelo Educativo 2017.

Tercero a sexto grado:

Cada mes puedes descargar en www.cicloescolar.mx exámenes para la evaluación mensual y bimestralmente estará disponible el examen general por bloque.

Todos los exámenes están desarrollados con base a los planes y programas del Nuevo Modelo Educativo 2017.