

4

Grado

EXAMEN MENSUAL BLOQUE 1: OCTUBRE

Nombre del Alumno:

Grado:

Grupo:

Fecha:

Nombre de la Escuela:

MATERIA	REACTIVOS	ACIERTOS	CALIFICACIÓN
Matemáticas	8		
Español	7		
Ciencias Naturales	8		
Geografía	11		
Historia	8		
Formación Cívica y Ética	10		

Firma del padre o tutor: _____

Observa las imágenes y contesta las preguntas.

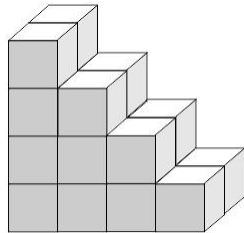


1.- Cuatro amigos compraron tres pizzas y la repartieron en partes iguales ¿Qué porción de pizza le tocó a cada uno?

- a) $\frac{3}{4}$ a cada uno
- b) $\frac{2}{4}$ a cada uno
- c) $\frac{4}{4}$ a cada uno
- d) $\frac{1}{4}$ a cada uno

3.- ¿Cuántas cajas se necesitan para completar un cubo?

- a) 12 cajas.
- b) 14 cajas.
- c) 16 cajas.
- d) 10 cajas.



5.- Un terreno de forma rectangular mide 240 m² de superficie y de ancho mide 8 m. ¿Cuánto mide de largo?

- a) 28 m
- b) 24 m
- c) 30 m
- d) 32 m

7.- Juan tiene que tomar su medicamento cada 5 horas. Si su primera pastilla la tomó a las 9:30 a. m. ¿A qué hora deberá tomar la segunda pastilla?

- a) A las 2:30 de la tarde.
- b) A las 12:30 de la tarde.
- c) A las 9:34 de la tarde.
- d) A las 10:40 de la tarde.

2.- David compró una caja de colores y un lápiz, Mario compró dos botes de pegamento y un sacapuntas. ¿Cuánto pagó cada uno?

David

Mario

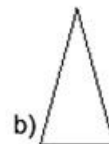

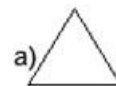
\$

\$

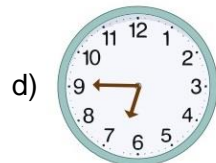
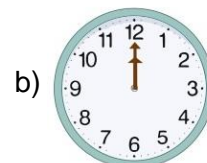
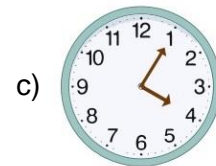
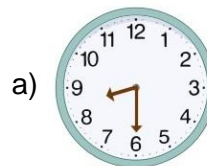
4.- Andrés pagó en la papelería \$23.95 ¿Qué productos compró?

- a) Un pegamento y un sacapuntas.
- b) Un lápiz y una caja de colores.
- c) Tres sacapuntas.
- d) Un lápiz y dos sacapuntas.

6.- Selecciona el triángulo escaleno



8.- ¿Qué reloj marca 15 para las 7:00?



Subraya la respuesta correcta:

1.- Selecciona las palabras de la misma familia léxica.

- a) Lima, limón, limonada.
- b) Cuchillo, cuchara, tenedor.
- c) Mesa, silla, mantel.
- d) Zapatos, tenis, calcetín.

Lee el siguiente texto y contesta la pregunta 3

Compré pocas copas, pocas copas compré,
como compré pocas copas, pocas copas pagaré.

3.- ¿Qué tipo de juego de palabras es el texto anterior?

- a) Un chiste.
- b) Una adivinanza.
- c) Un trabalenguas.
- d) Una leyenda.

5.- Lee el siguiente texto y subraya las palabras que riman.

Puedo perderte,
puedo odiarte,
pero es imposible
poder olvidarte.

Observa la siguiente imagen y responde la pregunta 7.



Lee el texto y contesta la pregunta 2

*Es la reina de los mares,
su dentadura es muy buena,
y por no ir nunca vacía,
siempre dicen que va llena.*

2.- ¿Qué tipo de juego de palabras es el texto anterior?

- a) Un chiste.
- b) Una adivinanza.
- c) Un trabalenguas.
- d) Una leyenda.

4.- ¿Cuál es la abreviatura correcta de avenida?

- a) Ave.
- b) Av.
- c) Avda.
- d) Ada.

6.- Son ejemplos de siglas.

- a) Blvd. Av. Cjn. Col.
- b) SSA, UNAM, IMSS
- c) Norte, Sur, Este, Oeste
- d) Izquierda, derecha.

7.- Según la información de la imagen, describe el trayecto que hay que seguir para llegar de la casa de Juan a la panadería.

Blank lined area for writing the answer to question 7.

Subraya la respuesta correcta.

1.- Está compuesto por órganos que reciben información del medio que nos rodea, la procesan para dar una respuesta y la transmiten a nuestros aparatos y sistemas. Así podemos ver, oír, olfatear, saborear, sentir frío, calor o dolor.

- a) Aparato circulatorio.
- b) Sistema muscular
- c) Sistema nervioso
- d) Aparato locomotor

3.- Está conformado por corazón, sangre, arterias, vasos capilares y venas, su función es llevar la sangre a todo el cuerpo.

- a) Aparato circulatorio.
- b) Sistema muscular
- c) Sistema nervioso
- d) Aparato digestivo

5.- ¿Qué tipo de enfermedades previenen las vacunas?

- a) Tuberculosis, sarampión, viruela.
- b) Diabetes, obesidad, hipertensión.
- c) Dolor de cabeza y resfriado común.
- d) Torceduras, luxaciones, fracturas.

7.- Son ejemplos de sustancias tóxicas.

- a) Ratas, cucarachas, hormigas.
- b) Refrescos, frituras, dulces.
- c) Pulgas, hongos, cochinillas.
- d) Detergentes, insecticidas, solventes, combustibles.

2.- Está compuesto por los músculos, huesos y articulaciones, les da soporte y protección a los órganos importantes y permite el movimiento de nuestro cuerpo.

- a) Aparato circulatorio.
- b) Sistema muscular
- c) Sistema nervioso
- d) Aparato locomotor

4.- Está conformado por nariz, laringe, tráquea, pulmones, bronquios y alveolos. Su función es abastecer de oxígeno al cuerpo y desechar el dióxido de carbono.

- a) Aparato digestivo.
- b) Aparato respiratorio.
- c) Aparato locomotor.
- d) Aparato circulatorio.

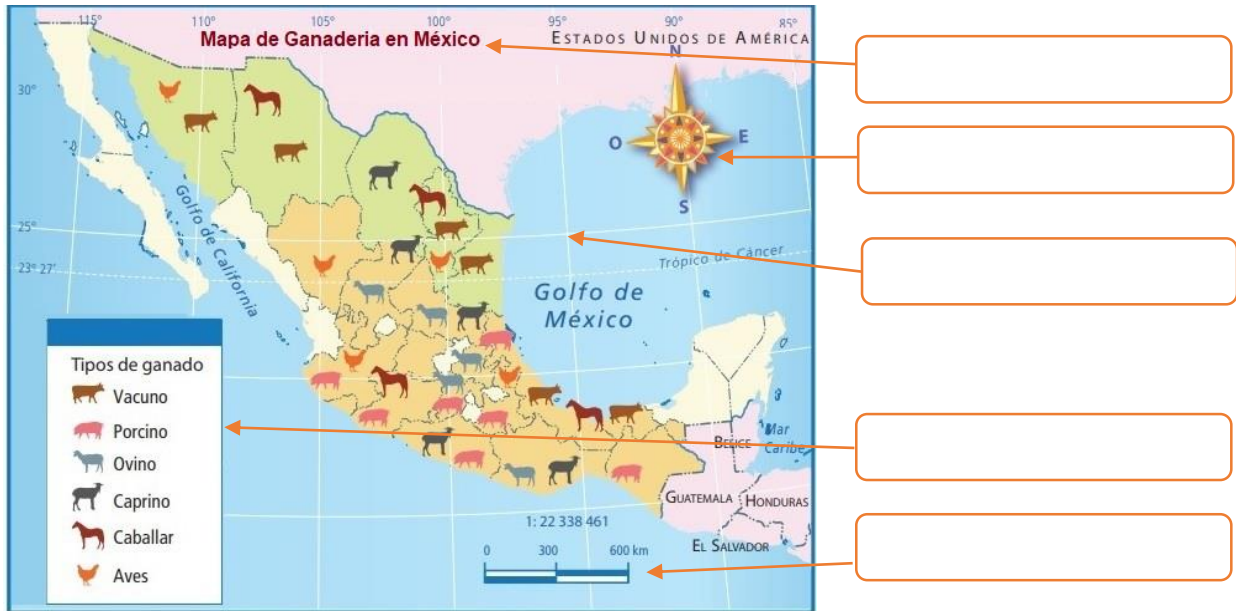
6.- Son compuestos venenosos que causan daño al organismo y que existen en forma de polvos, gases y líquidos.

- a) Sustancias tóxicas.
- b) Contaminación del ambiente.
- c) Comida industrializada.
- d) Refrescos y frituras.

8.- Forma correcta de tratar las sustancias tóxicas, excepto una ¿Cuál es?

- a) Mantenerlas cerradas y guardadas en envases originales.
- b) Identificar las sustancias colocando una etiqueta con el nombre del producto.
- c) Separar los productos que sean inflamables y protegerlos de las fuentes de calor.
- d) Ponerlos en el patio bajo el sol, para que se vean bien y nadie los toque.

1 y 5.- Escribe el nombre de los elementos del mapa en el lugar que le corresponde.



Subraya la respuesta correcta

6.- Nos indica en un mapa cuántas veces se redujo un objeto o lugar para representarlo.

- a) Rosa de los vientos.
- b) Coordenadas geográficas.
- c) Escala.
- d) Simbología.

8.- Son líneas imaginarias horizontales (paralelos) y verticales (meridianos) que nos permiten localizar cualquier lugar sobre la superficie terrestre.

- a) Rosa de los vientos.
- b) Coordenadas geográficas.
- c) Escala.
- d) Simbología.

10.- Además de la división política, México también se divide en cuatro regiones. ¿Cuáles son?

- a) Norte, Occidental, Sur, Oriental.
- b) Cálida, fría, templada, árida.
- c) Este, oeste, norte, sur.
- d) Selva, Bosque, Pastizal, Matorral.

7.- En un mapa pueden ser: dibujos, líneas, círculos, colores y otras figuras que representan objetos reales o condiciones de un lugar.

- a) Rosa de los vientos.
- b) Coordenadas geográficas.
- c) Escala.
- d) Simbología.

9.- Actual división política de México

- a) 32 ciudades.
- b) 4 regiones.
- c) 1224 municipios.
- d) 32 entidades federativas.

11.- Aspectos que se consideran para delimitar las regiones de México.

- a) Fronteras, grupos étnicos, lenguas.
- b) Ríos, montañas y lengua,
- c) Clima, vegetación, relieve y división política.
- d) Climas, carreteras y relieves.

Subraya la respuesta correcta.

1.- ¿Cómo se originó la agricultura?

- a) Observaron que las semillas se dispersaban a otros lugares y donde caían las semillas nacían nuevas plantas.
- b) Descubrieron pinturas rupestres que les enseñaron a sembrar semillas.
- c) Pobladores nómadas que viajaban con ese conocimiento lo transmitieron a los demás.

3.- ¿Cómo se inició el comercio?

- a) Los nómadas viajeros vendían sus herramientas para comprar alimentos.
- b) Gracias a la agricultura los humanos comenzaron a formar aldeas y el comercio inició con el intercambio o trueque de productos.
- c) Cuando inventaron el dinero todos los pobladores querían tener mucho y vendían los productos que cultivaban.

5.- Fue una región del México antiguo, árida en la que vivieron sociedades dedicadas a la cacería y a la recolección de frutos y vegetales.

- a) Aridoamérica.
- b) Oasisamérica.
- c) Mesoamérica.

7.- Esta región del México antiguo tenía varios tipos de clima y abundancia de ríos y lagunas lo que hizo favorable la agricultura.

- a) Aridoamérica
- b) Oasisamérica
- c) Mesoamérica

2.- ¿En qué año se cree que inició el cultivo del maíz?

- a) Hace 100 años.
- b) Alrededor del año 5000 a.C.
- c) Alrededor del año 500 a.C.

4.- ¿Por qué grupos nómadas de cazadores-recolectores empezaron a practicar la agricultura?

- a) Porque al terminar las glaciaciones los niveles del mar subieron y tuvieron que permanecer en un solo lugar.
- b) Ya estaban cansados de viajar de un lugar a otro.
- c) La población aumentó tanto, que lo recolectado ya no alcanzó para alimentar a los integrantes del grupo y buscaron la forma de producir alimento en mayor cantidad.

6.- Esta región del México antiguo, poseía un territorio semiárido, de clima caluroso, en el que las lluvias son escasas todo el año.

- a) Aridoamérica
- b) Oasisamérica
- c) Mesoamérica

8.- Dibujos sobre rocas que representaban ideas de caza y de guerra y actividades cotidianas de los grupos que las realizaban.

- a) Pinturas rupestres.
- b) Murales.
- c) Mapas.

1 al 5.- Escribe cada palabra en el lugar que le corresponde para completar la oración.

potencial

excelentes cosas

equidad

justicia

mundo

salud

bienes

Los seres humanos tenemos enorme potencial: esto quiere decir que, si nos lo proponemos, podemos hacer grandes y _____, por ejemplo: trabajar, cuidar, transformar y mejorar el _____, conocer nuestra historia y vivir en sociedad.

Para que desarrollemos ese _____ son esenciales la _____, la seguridad, el estudio y la vida social, también que haya _____ y _____ en la producción y repartición de los _____, así como apego a la legalidad.

Subraya la respuesta correcta:

6.- Un código de conducta adecuado cuando se utiliza internet.

- a) No compartir mi nombre de inicio de sesión con nadie, ni siquiera con mis padres.
- b) Dejar que mis padres sepan mi nombre de inicio de sesión de internet y los nombres de chat.
- c) No usar mi nombre real para poder tener cualquier comportamiento en línea, aunque haga enfadar a otras personas.

8.- Es el organismo encargado de fomentar y promover la cultura física y el deporte en México.

- a) La Comisión Nacional de Cultura Física y Deporte (Conade).
- b) La Comisión Nacional de Libros de Texto gratuitos (CONALITEG)
- c) La Comisión Nacional para la Prevención de la Discriminación. (Conapred)

7.- Si un compañero de tu salón de clases tuviera alguna discapacidad ¿Cómo deberías tratarlo?

- a) Debería dejar que consiga amigos con discapacidad.
- b) Tratarlo con respeto igual que a todos mis compañeros y ser su amigo.
- c) Debo ignorarlo para que no se sienta mal.

9.- Hace que se logren de mejor manera los proyectos que requieren esfuerzo, participación y recursos de dos o más personas.

- a) Principio de cooperación.
- b) Tolerancia.
- c) Respeto.

10.- ¿Qué amas de tu patria? Anótalo aquí.

CicloEscolar.mx ® 2018

Este examen fue elaborado exclusivamente para www.cicloescolar.mx.

Si vas a compartir este material en tu página web, no borres esta leyenda y contarás con el permiso expreso del autor.

Visita: **<https://www.cicloescolar.mx>**

Primer y segundo grado:

Cada mes puedes descargar en www.cicloescolar.mx exámenes para la evaluación mensual y trimestralmente estará disponible el examen general por bloque.

Todos los exámenes están desarrollados con base a los planes y programas del Nuevo Modelo Educativo 2017.

Tercero a sexto grado:

Cada mes puedes descargar en www.cicloescolar.mx exámenes para la evaluación mensual y bimestralmente estará disponible el examen general por bloque.

Todos los exámenes están desarrollados con base a los planes y programas del Nuevo Modelo Educativo 2017.