

6 GRADO

BLOQUE 1

EXAMEN MENSUAL:
OCTUBRE

Nombre del Alumno:

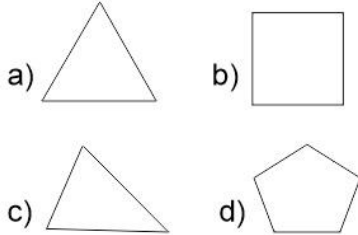
Grado: Grupo: Fecha:

Nombre de la Escuela:

MATERIA	REACTIVOS	ACIERTOS	CALIFICACIÓN
Matemáticas	8		
Español	7		
Ciencias Naturales	8		
Geografía	10		
Historia	8		
Formación Cívica y Ética	8		

Firma del padre o tutor: _____

1.- ¿Cuál de las siguientes figuras no tiene ningún eje de simetría?



Observa la siguiente imagen y contesta las preguntas 3 y 4.

Te prestamos desde \$100 hasta \$30 000
 Paga un interés mensual de solamente %6

Es decir:
 Por cada \$100 paga sólo \$6

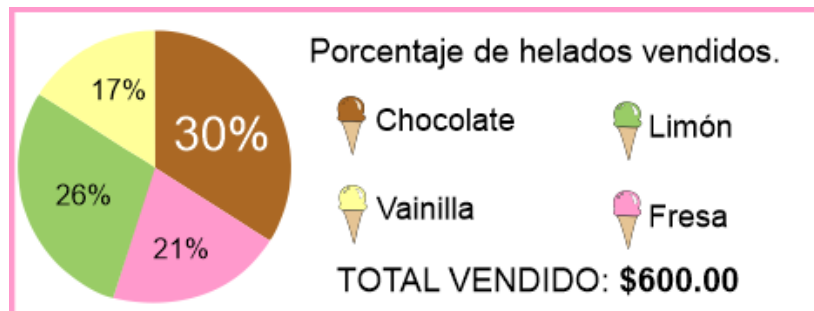
3.- ¿Cuánto se tiene que pagar de interés mensual si se solicita un préstamo de \$1600?

- a) \$48
- b) \$100
- c) \$96
- d) \$106

4.- ¿Cuánto se tiene que pagar de interés mensual si se solicita un préstamo de \$800?

- a) \$48
- b) \$56
- c) \$96
- d) \$206

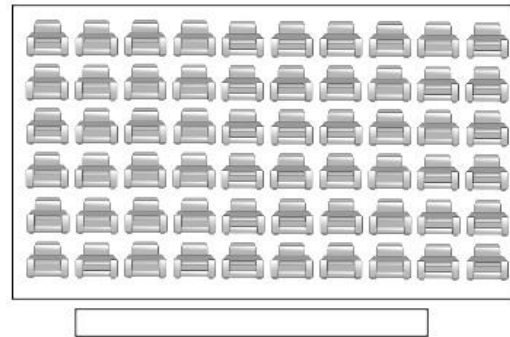
Observa la imagen y contesta las preguntas.



7.- Si cada helado cuesta \$10 ¿Cuántos helados se vendieron en total?

- a) 50 helados.
- b) 70 helados.
- c) 60 helados.
- d) 35 helados.

2.- Marca con un circulo el asiento de la quinta fila, sexta columna.



Observa la imagen y contesta las preguntas 5 y 6.



5.- ¿Cuánto se tendría que pagar por la televisión?

- a) \$320
- b) \$150
- c) \$200
- d) \$280

6.- ¿Cuánto se tendría que pagar por el sillón?

- a) \$150
- b) \$144
- c) \$140
- d) \$134

Subraya la respuesta correcta.

1.- ¿En qué tipo de texto una persona narra lo que sucedió en su vida?

- a) En un cuento.
- b) En una leyenda.
- c) En una autobiografía.
- d) En una biografía.

3.- ¿Cómo se llama la lista de preguntas que se deben formular para saber más sobre la vida de una persona?

- a) Examen.
- b) Cuestionario.
- c) Entrevista.
- d) Interrogatorio.

Lee el siguiente texto y responde la pregunta 5.

María de la Natividad Josefa Ortiz Girón Nació en Valladolid, hoy Morelia. Fue hija de los españoles Juan José Ortiz y María Manuela Girón. Es mejor conocida como Doña Josefa Ortiz de Domínguez, la Corregidora de Querétaro, heroína de la independencia de México.

5.- ¿Qué tipo de texto es el anterior?

- a) Una biografía.
- b) Una autobiografía.
- c) Un relato histórico.
- d) Una leyenda.

2.- ¿En qué tipo de texto otras personas narran los sucesos de la vida de alguien más?

- a) En un cuento.
- b) En una leyenda.
- c) En una autobiografía.
- d) En una biografía.

4.- La persona gramatical que narra una autobiografía es:

- a) Primera persona del plural: nosotros.
- b) Primera persona del singular: yo.
- c) Tercera persona del plural: ellos.
- d) Un locutor de radio.

Lee el siguiente texto y responde la pregunta 6.

Mi nombre es Benito Pablo Juárez García, de nacionalidad mexicano. Soy un indígena zapoteco nacido en San Pablo Guelatao, Oaxaca, el 21 de marzo de 1806. Desde niño luche por mi preparación académica para culminarla con éxito y convertirme en presidente de México.

6.- ¿Qué tipo de texto es el anterior?

- a) Una biografía.
- b) Una autobiografía.
- c) Un relato histórico.
- d) Una leyenda.

Lee la siguiente información.

Premian a un alumno de la Escuela Primaria Benito Juárez por su primer lugar en el concurso estatal de lectura, su nombre es Juan Daniel Pérez Martínez estudiante de sexto grado al que se le reconoció con una medalla y un diploma. La Directora de la escuela felicitó al maestro del niño por su excelente labor docente.

7.- La frase que resume la información anterior es:

- a) Juan Daniel Pérez Martínez, ganó el concurso de lectura y obtuvo una medalla y un diploma.
- b) La directora felicita a un maestro por su labor docente.
- c) Juan Daniel Pérez Martínez es un estudiante de sexto grado de la escuela Benito Juárez.
- d) La escuela Benito Juárez tiene un excelente maestro.

Subraya la respuesta correcta.

1.- ¿Qué implica la reproducción humana?

- a) El crecimiento del cuerpo.
- b) Los cambios físicos y emocionales.
- c) El nacimiento de nuevos individuos.
- d) Escuchar música o videos.

3.- El nacimiento de un nuevo individuo inicia con la fecundación ¿en qué consiste ésta?

- a) Es la fusión de un óvulo, célula sexual femenina, con un espermatozoide, célula sexual masculina.
- b) Es el desarrollo de los caracteres sexuales secundarios.
- c) Es un proceso de cambios físicos y emocionales.
- d) Es una enfermedad de transmisión sexual.

5.- ¿Cuáles son las consecuencias de tener relaciones sexuales sin información y orientación adecuada?

- a) El enojo de los padres.
- b) Que tu novio(a) te quiera más.
- c) Un embarazo no planeado o contraer una enfermedad de transmisión sexual.
- d) Contraer influenza A(H1N1).

2.- ¿Por qué es importante la reproducción?

- a) Porque fomenta la cultura
- b) Porque es indispensable para la diversión de las personas.
- c) Porque nos permite comunicarnos eficientemente.
- d) Porque gracias a este proceso se preservan las especies.

4.- ¿Qué ocurre cuando un óvulo fecundado, llamado huevo o cigoto, se implanta en el útero?

- a) Permanece ahí por 28 días y luego es expulsado en la menstruación.
- b) Continúa su desarrollo por aproximadamente 9 meses mientras es alimentado por la madre a través del cordón umbilical, posteriormente ocurre el parto.
- c) Es absorbido por el cuerpo y desaparece.
- d) Permanece ahí por 28 días y posteriormente ocurre el parto.

6.- Las siguientes son enfermedades de transmisión sexual, excepto:

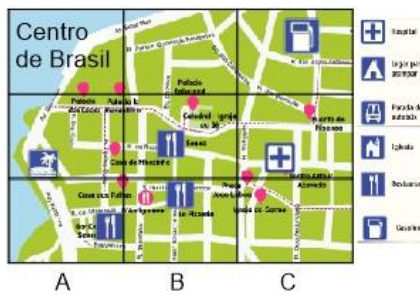
- a) Sífilis y Sida.
- b) Papiloma humano.
- c) Herpes y gonorrea
- d) Hipertensión y diabetes.

7 y 8.- Las medidas para tener relaciones sexuales de una manera responsable sin la consecuencia de un embarazo no planeado o de adquirir alguna infección de transmisión sexual son llamadas **Métodos anticonceptivos.**

Escribe un método anticonceptivo usado por hombres:

Escribe un método anticonceptivo usado por mujeres:

1 al 4.- Observa las siguientes imágenes de recursos de información geográfica y escribe: **Plano, Imagen satelital, Mapa, Imagen aérea.** En el lugar que le corresponde.



5.- Son la representación de una ciudad vista desde arriba como si volaras sobre ella, muestran el trazado de las calles y las manzanas, así como algunos lugares de interés, monumentos, construcciones de valor artístico y museos.

- a) Las imágenes satelitales.
- b) Los mapas.
- c) Los planos.
- d) Los croquis.

6.- ¿Qué recurso de información geográfica es más útil para mostrar en qué parte del mundo se encuentra Brasil?

- a) Un mapa.
- b) Una imagen Satelital.
- c) Una fotografía aérea.
- d) Un plano.

7.- ¿Qué tipo de representación utilizarías para ubicar lugares de interés en una ciudad?

- a) Un mapa.
- b) Una imagen Satelital.
- c) Una fotografía aérea.
- d) Un plano.

8.- Muestran detalles con gran nitidez y se requieren de varias tomas para abarcar grandes extensiones.

- a) Mapas.
- b) Imágenes satelitales.
- c) Fotografías aéreas.
- d) Planos.

9.- Proporciona información con gran detalle de extensas áreas de la Tierra en una sola imagen.

- a) Mapas.
- b) Imágenes satelitales.
- c) Fotografías aéreas.
- d) Planos.

10.- ¿Que tecnologías generan y manejan información geográfica?

- a) Satélites, sistemas de cómputo y mapas digitales.
- b) Globos terráqueos, planos y estadísticas.
- c) Fotografías aéreas y mapas.
- d) Imágenes satelitales y planos urbanos.

Subraya la respuesta correcta:

- 1.- ¿Cuál era la principal actividad de los grupos nómadas para conseguir sus alimentos?
- a) El cultivo de plantas y la domesticación de animales.
 - b) La caza y la recolección.
 - c) El comercio y la caza de animales.
 - d) La agricultura
- 2.- ¿Con qué material fabricaron los ancestros humanos sus armas y herramientas como puntas de flechas, cuchillos y hachas?
- a) Madera.
 - b) Hierro.
 - c) Piedra.
 - d) Cobre.
- 3.- ¿Cuál fue el último continente en ser poblado por el hombre?
- a) Asia.
 - b) África.
 - c) América.
 - d) Europa.
- 4.- ¿Qué ayudó a los humanos a sobrevivir el intenso frío que traían las glaciaciones?
- a) Curtir pieles de animales para cubrirse.
 - b) Hacer ejercicio de calentamiento.
 - c) Comer mucha carne de animales.
 - d) El descubrimiento del algodón.
- 5.- ¿Qué descubrimiento dio origen a las primeras sociedades sedentarias?
- a) El fuego.
 - b) La caza y la recolección.
 - c) La agricultura.
 - d) El comercio.
- 6.- ¿Qué cambios importantes en la forma de vida surgieron a partir de la sedentarización?
- a) Se construyeron viviendas en espacios urbanizados, se formaron las primeras aldeas y surgieron artesanos y comerciantes.
 - b) Se olvidaron de cazar animales y se alimentaban solamente de maíz.
 - c) La población tenía más tiempo libre lo que dio origen a las primeras bandas criminales.
 - d) Descubrieron el fuego y la fabricación de armas.
- 7.- ¿Qué consecuencia trajo el establecimiento de las primeras ciudades?
- a) La fabricación de herramientas.
 - b) Las grandes migraciones.
 - c) La expansión del nomadismo.
 - d) El crecimiento de la población.
- 8.- ¿Qué dio origen a los primeros sistemas de escritura?
- a) La necesidad de escribir cartas a los familiares que dejaron atrás después de las migraciones.
 - b) Para fines utilitarios, como la contabilidad en el comercio, el registro de impuestos y transmitir conocimiento religioso y político.
 - c) Para comunicarse, porque les costaba entender otros idiomas.
 - d) El descubrimiento de la tinta.
- 9.- Tipo de escritura compuesto por signos que representan ideas y sonidos
- a) Escritura alfabética.
 - b) Escritura cuneiforme.
 - c) Escritura jeroglífica.
 - d) Escritura ideográfica.

1 al 5.- Lee cuidadosamente las siguientes características que conforman el bienestar integral de las personas saludables y escribe su nombre en el lugar que le corresponde:

Salud reproductiva

Bienestar físico

Salud social

Salud sexual

Bienestar mental y emocional

Se integra y participa en los grupos sociales. Convive sin violencia, sin discriminar y sin permitir abusos.

Duerme, descansa y se divierte. Tiene una sólida autoestima y establece de manera respetuosa relaciones afectivas, sociales y de amistad.

Sus órganos funcionan bien, resiste las enfermedades, su higiene es buena, hace ejercicio, tiene fuerza y su peso es adecuado para su talla

Comprende los cambios que está viviendo, cuida su higiene y sus órganos sexuales. Sabe que tiene derecho a no ser molestada en su cuerpo ni en su intimidad; a ser tratada con amor y respeto. Previene las infecciones de transmisión sexual y los embarazos no planeados.

Es el derecho constitucional a decidir si se quiere o no tener bebés, cuándo y con quién disfrutar una vida sexual y si se desea tener o no hijos, el número de ellos y el momento.

Subraya la respuesta correcta:

6.- Es la capacidad de identificar las situaciones que representan un peligro para la vida, la dignidad y la seguridad.

- a) Los estereotipos.
- b) Las emociones.
- c) La percepción del riesgo.
- d) La pubertad.

7.- Son ideas falsas basadas en prejuicios que llevan a la discriminación y limitan el desarrollo pleno de las personas.

- a) Los estereotipos.
- b) Las emociones.
- c) La percepción del riesgo.
- d) La pubertad.

8.- Es un ejemplo de estereotipo

- a) Creer que las niñas deben vestir de rosa, jugar solo con muñecas y ser delicadas y frágiles.
- b) Creer que las niñas pueden realizar las mismas actividades que los niños.
- c) Que hombres y mujeres son iguales ante la sociedad.
- d) Que hombres y mujeres deben ser tratados con respeto y dignidad.

CicloEscolar.MX ® 2018

Este examen fue elaborado exclusivamente para www.cicloescolar.mx.

Si vas a compartir este material en tu página web, no borres esta leyenda y contarás con el permiso expreso del autor.

Visita: **<https://www.cicloescolar.mx>**

Primer y segundo grado:

Cada mes puedes descargar en www.cicloescolar.mx exámenes para la evaluación mensual y trimestralmente estará disponible el examen general por bloque.

Todos los exámenes están desarrollados con base a los planes y programas del Nuevo Modelo Educativo 2017.

Tercero a sexto grado:

Cada mes puedes descargar en www.cicloescolar.mx exámenes para la evaluación mensual y bimestralmente estará disponible el examen general por bloque.

Todos los exámenes están desarrollados con base a los planes y programas del Nuevo Modelo Educativo 2017.