

# 4 grado

## EXAMEN MENSUAL FEBRERO

Nombre del Alumno:

Grado:  Grupo:  Fecha:

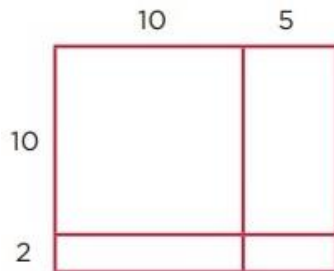
Nombre de la Escuela:

MATERIA	REACTIVOS	ACIERTOS	CALIFICACIÓN
Matemáticas	6		
Español	8		
Ciencias Naturales	8		
Geografía	9		
Historia	10		
Formación Cívica y Ética	4		

Firma del padre o tutor: \_\_\_\_\_

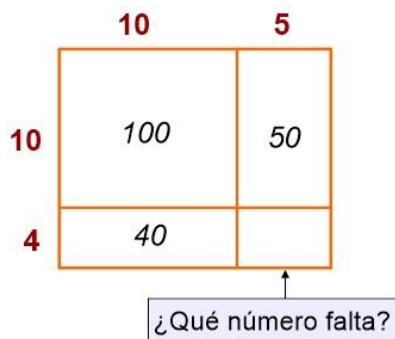
Subraya la respuesta correcta.

1.- Elige la operación que representa correctamente el resultado de la siguiente multiplicación con base en el cálculo de áreas.



- a)  $100 + 50 + 20 + 10 = 180$
- b)  $120 + 20 + 20 + 20 = 180$
- c)  $150 + 10 + 10 + 10 = 180$
- d)  $120 + 30 + 20 + 10 = 180$

2.- ¿Qué número falta en el rectángulo?



- a) 60
- b) 10
- c) 20
- d) 30

Elige la operación que permite resolver el problema.

3.- Para ir al cine Sofía gastó \$80 pesos en los boletos, \$130 en palomitas y \$30 en un refresco. ¿Cuánto gastó en total?

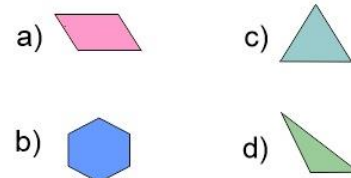
- a)  $80 + 130 + 30 = 240$
- b)  $80 + 130 - 30 = 210$
- c)  $130 - 80 + 30 = 110$
- d)  $80 \times 130 \times 30 = 312$

4.- El martes se vendieron 40 boletos para el cine: 26 para niños y 14 para adultos. ¿Cuánto dinero obtuvo el cine por la venta de los boletos?

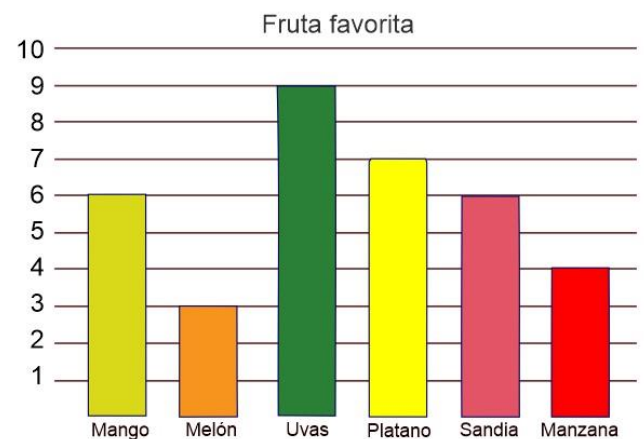


- a)  $26 \times 20 + 14 + 30$
- b)  $26 \times 20 + 14 \times 30$
- c)  $26 \times 14 \times 20$
- d)  $40 \times 20 + 5$

5.- ¿Qué figura es un cuadrilátero?



6.- Se realizó una encuesta con los niños de Cuarto grado. Cada uno votó por su fruta favorita.



Según la siguiente gráfica, ¿cuál es la diferencia de votos entre la fruta que obtuvo más votos con la que obtuvo menos votos?

- a) 6 votos.
- b) 3 votos.
- c) 9 votos.
- d) 36 votos.

Lee el siguiente poema y responde las preguntas 1 al 3.

Bailaba la niña alegre  
en una noche estrellada.

Se movía al son del aire,  
bajo la luna de plata.

¡Cómo bailaba la niña!  
¡Cómo la niña bailaba!

Con ojos como dos faros  
y finas pestañas bordadas.

*Autor: Almudena Orellana Palomares*

1.- ¿Qué tema trata el poema anterior?

- a) Amor.
- b) Alegría.
- c) Tristeza.
- d) Enojo.

2.- ¿Qué sentimiento transmite la lectura del poema?

- a) Amor
- b) Miedo.
- c) Buen humor.
- d) Molestia.

3.- Es una **rima** presente en el poema:

- a) Bailaba rima con estrellada.
- b) Niña rima con plata.
- c) Pestaña rima con bordadas.
- d) Ojos rima con faros.

4.- Es darle entonación a un poema empleando la expresión gestual y corporal para enfatizar las emociones y los sentimientos del texto.

- a) Recitar.
- b) Declamar.
- c) Leer.
- d) Imaginar.

Observa el anuncio publicitario y responde las preguntas 5 al 7.



5.- ¿A qué público está dirigido el anuncio?

- a) Para niños.
- b) Para hombres.
- c) Para mujeres.
- d) Para todo público.

6.- ¿Cuál es la frase principal?

- a) Champú Savita.
- b) Para las mujeres bellas como tú.
- c) Logra un cabello hermoso.
- d) En minutos.

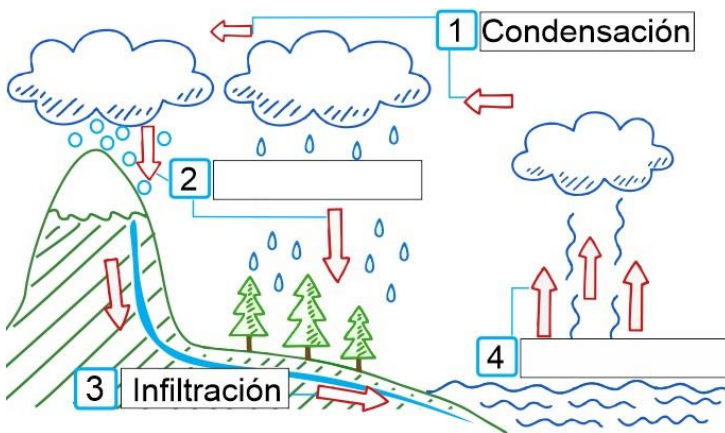
7.- ¿Cuál es el objetivo del anuncio?

- a) Que las mujeres compren el producto champú Savita.
- b) Que las mujeres tengan cabello hermoso.
- c) Que las mujeres sean más bellas.
- d) Que las mujeres compren cereal.

8.- Es un ejemplo de **consumo inteligente**:

- a) Daniel compara las etiquetas de los productos antes de comprar.
- b) María compra el producto que anuncia su artista favorito.
- c) Miguel compra el producto más barato.
- d) José compra el producto más caro.

Observa la siguiente imagen y responde las preguntas 1 al 3.



1.- ¿Qué se representa en la imagen?

- a) El ciclo de la materia.
- b) El ciclo del agua.
- c) El ciclo de los mares.
- d) El ciclo de las nubes.

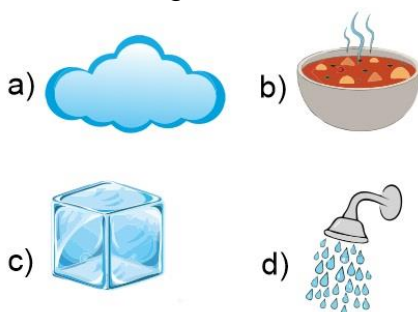
2.- ¿Qué proceso corresponde al recuadro 2?

- a) Solidificación.
- b) Precipitación.
- c) Evaporación.
- d) Fusión.

3.- ¿Qué proceso corresponde al recuadro 4?

- a) Solidificación.
- b) Precipitación.
- c) Evaporación.
- d) Fusión.

4.- ¿Cuál de los siguientes es un ejemplo de materia en estado gaseoso?



Subraya la respuesta correcta:

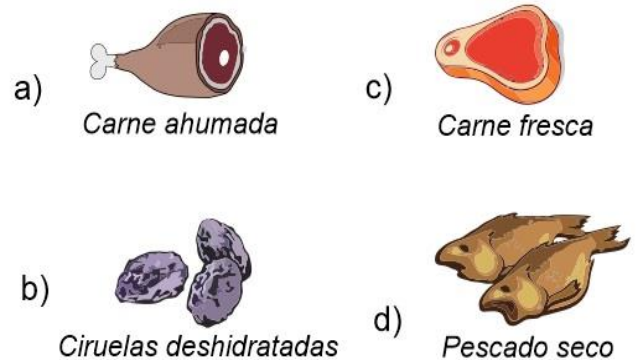
5.- Es el proceso en el que los alimentos son sometidos al calor y durante el cual cambian sus características por ejemplo, su color, su olor y su sabor.

- a) Fusión.
- b) Cocción.
- c) Carbonización.
- d) Ebullición.

6.- Los siguientes son métodos de conservación de los alimentos, excepto:

- a) Pasteurización.
- b) Refrigeración.
- c) Ahumado.
- d) Evaporación.

7.- De los siguientes alimentos sin refrigerar, ¿qué alimento se descompondrá más pronto?



8.- Son los causantes de la descomposición de los alimentos.

- a) Los microorganismos.
- b) El aire.
- c) El calor.
- d) El frío.

*Subraya la respuesta correcta:*

**1.-** Es el cambio de residencia temporal o definitiva de las personas, generalmente para mejorar su situación económica.

- a) Reducción.
- b) Saturación.
- c) Población.
- d) Migración.

**2.-** Cuando una persona sale del lugar donde vive para irse a vivir a otro se le llama:

- a) Emigrante.
- b) Desplazado.
- c) Inmigrante.
- d) Turista.

**3.-** Cuando una persona llega al lugar de destino se le conoce como:

- a) Inmigrante.
- b) Desplazado.
- c) Emigrante.
- d) Turista.

**4.-** Juan y su familia se fueron a vivir definitivamente a Estados Unidos para buscar una mejor calidad de vida. Ese desplazamiento es un ejemplo de:

- a) Migración interna.
- b) Migración externa.
- c) Migración temporal.
- d) Vacaciones.

**5.-** José es agricultor que vive en Oaxaca, pero va a trasladarse a Sinaloa por unos meses para la cosecha de tomate rojo. Después regresará a su hogar. Ese desplazamiento es un ejemplo de:

- a) Migración interna.
- b) Migración externa.
- c) Migración temporal.
- d) Vacaciones.

**6.-** Son las causas principales por las cuales las personas migran:

- a) Para viajar y conocer lugares interesantes.
- b) Para buscar empleo, mejorar su situación económica y tener mejores servicios educativos y de salud.
- c) Para visitar en el extranjero a familiares y amigos.
- d) Para aprender otros idiomas y conocer personas de diferentes culturas y tradiciones.

**7.-** Es un ejemplo de la riqueza cultural de México.

- a) Su extensión territorial.
- b) Los pueblos indígenas con sus lenguas, tradiciones, creencias, rituales, ceremonias.
- c) El clima y el relieve.
- d) Los desastres naturales.

**8.-** Son grupos de personas, sobre todo jóvenes, identificados por una actividad, un tipo de música, una vestimenta e incluso por una forma de hablar muy particular.

- a) Tribus urbanas.
- b) Grupos de inmigrantes.
- c) Mestizos.
- d) Estudiantes.

**9.-** Es un ejemplo de tribu urbana.

- a) Asiáticos.
- b) Menonitas.
- c) Judíos.
- d) Rockeros.

Identifica a quien corresponden las **distintas concepciones sobre la guerra** que se enumeran a continuación.

Marca como se indica según corresponde.

Guerreros mesoamericanos  Conquistadores españoles




- |                          |  |                          |
|--------------------------|--|--------------------------|
| <input type="checkbox"/> | 1.- Para ellos la guerra tenía un sentido sagrado.                                     | <input type="checkbox"/> |
| <input type="checkbox"/> | 2.- Usaban armas de fuego como cañones y escopetas                                     | <input type="checkbox"/> |
| <input type="checkbox"/> | 3.- Consideraban que vencían al enemigo en nombre de su dios Santiago Matamoros        | <input type="checkbox"/> |
| <input type="checkbox"/> | 4.- Creían que el Sol necesitaba sacrificios humanos para que no terminara su energía. | <input type="checkbox"/> |
| <input type="checkbox"/> | 5.- Sus esfuerzos en la guerra estaban dirigidos a capturar a sus contrarios.          | <input type="checkbox"/> |
| <input type="checkbox"/> | 6.- Utilizaban animales de combate como los caballos y perros de guerra.               | <input type="checkbox"/> |
| <input type="checkbox"/> | 7.- Para ellos la guerra implicaba el exterminio del enemigo.                          | <input type="checkbox"/> |
| <input type="checkbox"/> | 8.- El número de enemigos capturados les otorgaba rangos como "Guerreros Jaguar"       | <input type="checkbox"/> |
| <input type="checkbox"/> | 9.- Adquirieron experiencia en la guerra por sus batallas contra los musulmanes.       | <input type="checkbox"/> |
| <input type="checkbox"/> | 10.- El triunfo en la guerra determinaba qué grupo debía mandar sobre el otro.         | <input type="checkbox"/> |

Subraya la respuesta correcta:

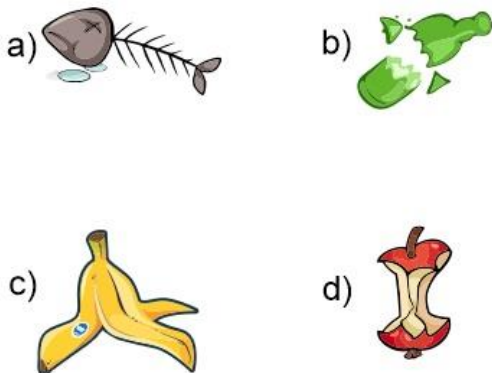
1.- ¿Por qué México es considerado un país megadiverso?

- a) Porque cuenta con variados ecosistemas y especies de plantas y animales.
- b) Porque tiene muchas tradiciones y cultura.
- c) Porque se hablan varias lenguas indígenas.
- d) Porque tiene gran variedad de climas y relieves.

2.- ¿Cuál de los siguientes es un desecho orgánico?



3.- ¿Cuál de los siguientes desechos tardará más en degradarse?



Lee el siguiente caso y responde la pregunta 4.



En agosto de 2007, la persona encargada de un Prestigioso Hotel de la ciudad turística de Cancún, en el estado mexicano de Quintana Roo, procedió a expulsar de sus instalaciones a **Rigoberta Menchú**, ganadora del Premio nobel de la Paz en 1992 y defensora de los derechos humanos, porque pensó que quería vender tortillas. Ella pertenece al grupo maya quiché y viste siempre con ropa tradicional. Menchú era invitada especial del presidente mexicano Felipe Calderón a la Asociación Nacional de Agua Potable y Saneamiento cuya ceremonia de inauguración sería en las instalaciones del hotel Coral Beach de Cancún.

Fuente: <https://elpais.com>

4.- ¿Qué tipo de maltrato sufrió Rigoberta?

- a) Discriminación.
- b) Corrupción.
- c) Soborno.
- d) Delincuencia.

## CicloEscolar.mx ® 2019

*Este examen fue elaborado exclusivamente para [www.cicloescolar.mx](http://www.cicloescolar.mx).*

*Si vas a compartir este material en tu página web, no borres esta leyenda y contarás con el permiso expreso del autor.*

Visita: **<https://www.cicloescolar.mx>**

### **Primer y segundo grado:**

*Cada mes puedes descargar en [www.cicloescolar.mx](http://www.cicloescolar.mx) exámenes para la evaluación mensual y trimestralmente estará disponible el examen general por bloque.*

*Todos los exámenes están desarrollados con base a los planes y programas del Nuevo Modelo Educativo 2017.*

### **Tercero a sexto grado:**

*Cada mes puedes descargar en [www.cicloescolar.mx](http://www.cicloescolar.mx) exámenes para la evaluación mensual y bimestralmente (ahora también trimestralmente) estará disponible el examen general por bloque.*

*Todos los exámenes están desarrollados con base a los planes y programas del Nuevo Modelo Educativo 2017.*