

3 grado

EXAMEN MENSUAL
ENERO

Nombre del Alumno:

Grado: Grupo: Fecha:

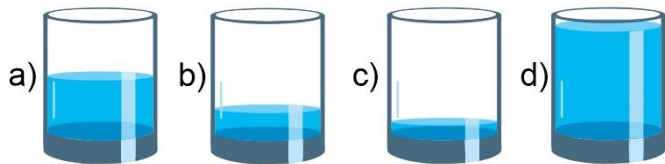
Nombre de la Escuela:

MATERIA	REACTIVOS	ACIERTOS	CALIFICACIÓN
Matemáticas	10		
Español	7		
Ciencias Naturales	11		
Formación Cívica y Ética	8		

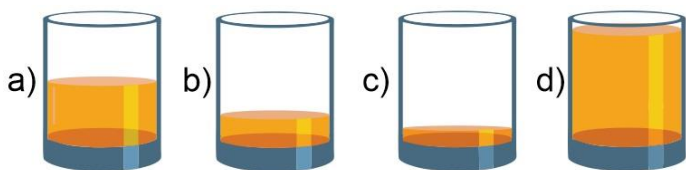
Firma del padre o tutor: _____

Subraya la respuesta correcta.

1.- Elige el vaso con $\frac{1}{8}$ de agua.



2.- Elige el vaso con $\frac{1}{2}$ de jugo.



Observa la siguiente imagen y responde la pregunta 3 y 4



3.- ¿Cuántas botellas pequeñas se podrán llenar con la botella grande?

- a) 2 b) 6 c) 4 d) 8

4.- ¿Cuántos vasos se pueden llenar con la botella pequeña?

- a) 2 b) 6 c) 4 d) 8

5.- ¿Qué parte de la siguiente figura esta iluminada?

- a) $\frac{1}{2}$
b) $\frac{1}{4}$
c) $\frac{1}{6}$
d) $\frac{1}{8}$



6.- ¿Elige el símbolo > (mayor que), < (menor que) o = (igual), según corresponda?

$$\frac{2}{8} \quad ? \quad \frac{1}{4}$$


- a) > b) < c) = d) /

7.- ¿Qué número falta en la siguiente sucesión?



- a) 1283 b) 1383 c) 1574 d) 1673

Observa la siguiente imagen y contesta las preguntas 8 y 9



8.- ¿Qué números deben ir en los vagones que no se ven?

- a) 79 y 78 c) 74 y 68
b) 76 y 70 d) 68 y 64

9.- ¿Qué relación hay entre los números que llevan los vagones?

- a) La sucesión aumenta de 6 en 6.
b) La sucesión disminuye de 6 en 6.
c) La sucesión disminuye de 4 en 4.
d) La sucesión aumenta de 4 en 4.

10.- María ahorra dinero de lo que le dan sus papás para la escuela. Ya tiene 125 pesos y decide incrementar 25 pesos cada semana. ¿Cuánto tendrá ahorrado en 10 semanas?

- a) 375 pesos c) 150 pesos
b) 250 pesos d) 325 pesos

Lee el siguiente texto y responde las preguntas 1 al 4.

LAS ARAÑAS

Las arañas son animales artrópodos del orden Araneae, tienen un cuerpo dividido en dos partes denominadas tagmas, y cuentan con cuatro pares de patas. Por regla general son animales solitarios y depredadores de pequeños insectos a los cuales pueden dar caza a través de técnicas muy variadas. Algunas, de hecho, poseen potentes venenos capaces de acabar con la vida de un ser humano.

(Subtítulo)

Todas las especies de araña producen seda, material compuesto de proteínas complejas, conocido también como tela de araña o telaraña; La utilizan para cazar presas y otras variadas funciones. La seda de araña es cinco veces más fuerte que el acero del mismo grosor. Cada hilo es más fino que el cabello. Cuanto más rápido y ajustada es tejida la hebra, más resistente será la seda.

Araña Violinista



Una gota de su veneno puede acabar con la vida de un ser humano en pocas horas.

1.- ¿En qué tipo de revista podríamos encontrar un artículo como el anterior?

- a) En una revista de divulgación científica.
- b) En una revista de recetas de cocina.
- c) En una revista de espectáculos.
- d) En una revista de moda.

2.- ¿Cómo se llama el texto breve que explica al lector lo que se muestra en la ilustración?

- a) Pie de página.
- b) Pie de fotografía o ilustración.
- c) Firma de autor.
- d) Párrafo explicativo.

3.- ¿Qué nombre sería más adecuado para el subtítulo que falta?

- a) La seda.
- b) Las presas de la araña.
- c) La telaraña.
- d) El alimento de las arañas.

4.- Es el tipo de lenguaje utilizado en la siguiente afirmación: *“La seda de araña es cinco veces más fuerte que el acero del mismo grosor”*

- a) Lenguaje figurado.
- b) Lenguaje literal.
- c) Lenguaje sencillo.
- d) Lenguaje científico.

5.- Elige el grupo de palabras que se relacionan y son parte de una familia.

- a) Sartén, Cazuela, Hoya, Vasija.
- b) Cuchara, Tenedor, Cuchillo.
- c) Plato, Taza, Vaso.
- d) Flor, Florería, Florero, Florista.

6.- ¿Qué tipo de texto es el siguiente?

Nací el 17 de julio de 2010 en Morelia. Mi familia salió de la ciudad cuando yo tenía tres años de edad, **inicialmente** nos establecimos en Guadalajara Jalisco donde vivimos por tres años y rentábamos una casa. **Después** nos fuimos a Colima donde vivimos hoy. **Mientras** yo estudiaba mis padres trabajaron duro para comprar nuestra propia casa y dejar de pagar renta. **Actualmente** estudio en la Primaria Benito Juárez y curso el tercer grado. Ya no recuerdo nada de mi estado natal pero vivo feliz en mi ciudad actual. [...]

- a) Un cuento.
- b) Un relato autobiográfico.
- c) Un reportaje.
- d) Un artículo de divulgación científica.

7.- ¿Qué propósito tienen las palabras **resaltadas** del texto anterior?

- a) Indicar el orden cronológico de los hechos.
- b) Indicar la ciudad donde nació.
- c) Indicar la ciudad donde vivo.
- d) Indicar la ciudad donde vivía antes.

Subraya la respuesta correcta.

1.- Es la cantidad de materia que contienen los objetos.

- a) Volumen.
- b) Temperatura.
- c) Masa.
- d) Forma.

2.- Dispositivo que se utiliza para determinar la masa de los objetos.

- a) Metro.
- b) Balanza.
- c) Termómetro.
- d) Regla.



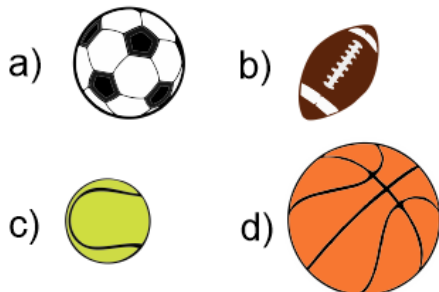
3.- Es la unidad más usada para medir la masa.

- a) Kilogramo (kg).
- b) Litro (L).
- c) Metro cúbico (m³).
- d) Grados Celsius (°C).

4.- Es el espacio que ocupan los objetos.

- a) Volumen.
- b) Temperatura.
- c) Masa.
- d) Forma.

5.- ¿Cuál de las siguientes pelotas tiene mayor volumen?



6.- Es la unidad de medida del volumen.

- a) Kilogramo (kg).
- b) Litro (L).
- c) Metro cúbico (m³).
- d) Grados Celsius (°C).

7.- Es la unidad que se utiliza frecuentemente para medir la capacidad de los recipientes.

- a) Kilogramo (kg).
- b) Litro (L).
- c) Metro cúbico (m³).
- d) Grados Celsius (°C).

8.- Es la medida del calor de los cuerpos.

- a) Volumen.
- b) Temperatura.
- c) Masa.
- d) Forma.

9.- Es la unidad para medir la temperatura.

- a) Kilogramo (kg).
- b) Litro (L).
- c) Metro cúbico (m³).
- d) Grados Celsius (°C).

10.- ¿Cuál de los siguientes objetos tendría una temperatura **muy baja**?



11.- Que instrumento se utiliza para medir la correctamente la temperatura de los objetos.

- a) Metro.
- b) Balanza.
- c) Termómetro.
- d) Regla.

Subraya la respuesta correcta.

1.- ¿Qué significa la palabra **patrimonio**?

a) “Lo que viene de los padres”

b) “Casarse con el novio o novia”

2.- ¿Qué elementos constituyen un patrimonio?

a) El lugar donde vivimos, su historia y tradiciones.

b) El dinero, un auto y la ropa.

3.- ¿Qué es la diversidad lingüística y cultural?

a) Las tradiciones, costumbres, canciones, formas de celebrar bodas y nacimientos. Hablar muchas lenguas.

b) Un país con muchos ciudadanos extranjeros.

4.- ¿Qué son los bienes comunes que a todos conviene cuidar?

a) La ropa que vestimos, el auto que usamos, la televisión que vemos.

b) Caminos, carreteras, calles, servicio de agua, drenaje y electricidad.

5.- ¿Cuándo puede y debe cambiar una tradición o costumbre?

a) Cuando ya ha pasado de moda.

b) Cuando pone en peligro la salud, la libertad y el trato justo.

6.- Es un ejemplo de tradición que afecta los derechos básicos de las personas.

a) Preparación de alimentos muy laboriosos como el mole.

b) Que los niños abandonen la escuela para trabajar y ayudar en el hogar.

7.- Elige la situación donde se presenta discriminación.

a) No permitir que las niñas jueguen fútbol.

b) Todos los alumnos deben hacer su tarea.

8.- Es juzgar a las personas antes de conocerlas, sin darles la oportunidad de expresarse.

a) Sentencia.

b) Prejuicio.

CicloEscolar.mx ® 2018

Este examen fue elaborado exclusivamente para www.cicloescolar.mx.

Si vas a compartir este material en tu página web, no borres esta leyenda y contarás con el permiso expreso del autor.

Visita: ***<https://www.cicloescolar.mx>***

TODOS LOS GRADOS

Cada mes puedes descargar en www.cicloescolar.mx exámenes para la evaluación mensual y trimestralmente estará disponible el examen general por bloque.

Todos los exámenes están desarrollados con base a los planes y programas del Nuevo Modelo Educativo 2017.