

1 grado



EXAMEN MENSUAL ENERO

Nombre del Alumno:

Grado: Grupo: Fecha:

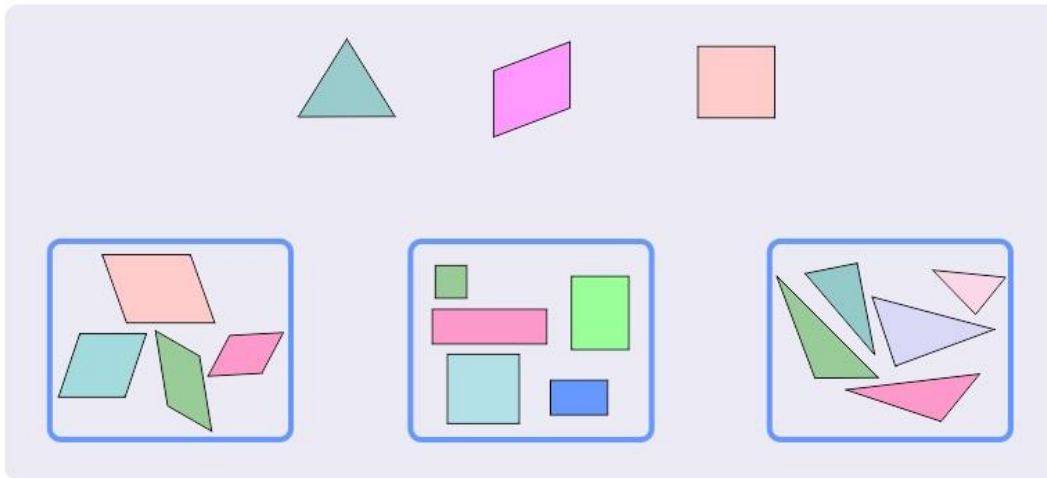
Nombre de la Escuela:

MATERIA	REACTIVOS	ACIERTOS	CALIFICACIÓN
Matemáticas	15		
Español	13		
Conocimiento del Medio	20		

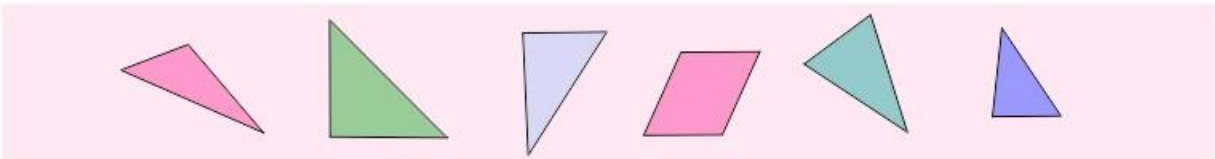
Firma del padre o tutor: _____

Observa la imagen.

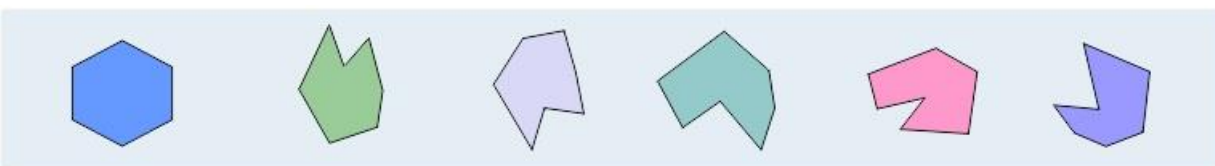
1 al 3.- Une con una línea a cada figura con el grupo al que pertenece.



4.- Tacha la figura que consideres no debería estar en el siguiente grupo.



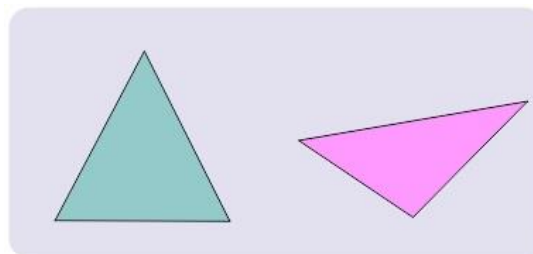
5.- Tacha la figura que consideres no debería estar en el siguiente grupo.



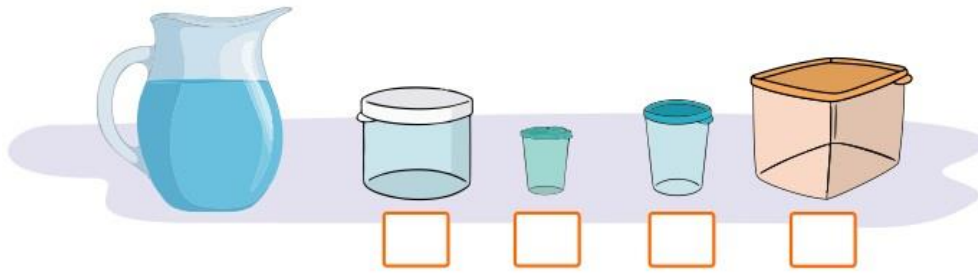
Marca con una la respuesta correcta.

6.- ¿Qué tienen en común las siguientes figuras?

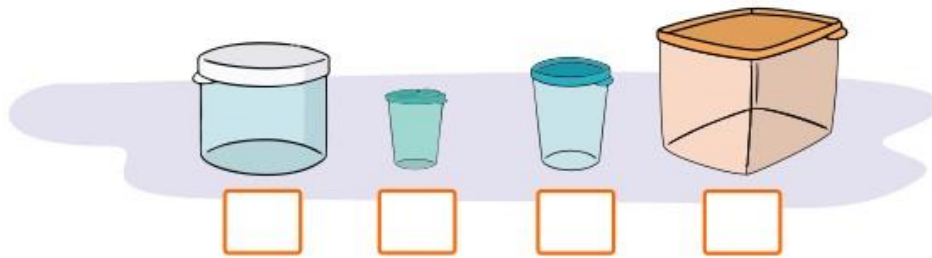
- Son del mismo color.
- Las dos tienen tres lados.
- Las dos tienen cuatro lados.



7.- Marca con una el recipiente al que consideres le cabe más agua.



8 al 11.- Escribe del 1 al 4 para ordenar los recipientes del que le cabe menos al que le cabe más.



12 y 13.- Anota los números que faltan.

	Empieza en el número	En los dados sale	Llega al número
	34		<input type="text"/>
	<input type="text"/>		45

14 y 15.- Dibuja los puntos que pudieron haber salido en los dados para llegar al número que se indica.

Estaba en el número	En los dados salió	Llegé al número
20	<input type="text"/> <input type="text"/>	30 
43	<input type="text"/> <input type="text"/>	50 

1.- Escribe tu nombre completo:

2 al 5.- Escribe tus datos donde corresponde:

BIBLIOTECA DEL AULA CREDENCIAL DE LECTOR



Escuela: _____ Grado: _____ Grupo: _____

Alumno/a: _____ Ciclo escolar: _____

Maestro/a: _____

¡DIVIÉRTETE. NO HAY LÍMITE DE LIBROS LEÍDOS!

6 y 7.- Lee, adivina y escribe la respuesta:

<ul style="list-style-type: none"> • Soy pequeño y blandito. Despacio siempre ando y mi casa traigo cargando. <p>_____</p>	<ul style="list-style-type: none"> • En lo alto vive, en lo alto mora, en lo alto teje la tejedora. <p>_____</p>	 <p>Conejo</p>
<ul style="list-style-type: none"> • Es la reina de los mares su dentadura es muy buena, por no ir nunca vacía, siempre dicen que va llena. <p>_____</p>	<ul style="list-style-type: none"> • Tiene las orejas largas, tiene la cola pequeña. Si lo quieres agarrar saltando se va sin parar. <p>_____</p>	 <p>Araña</p>  <p>Caracol</p>  <p>Ballena</p>

8 al 10.- Escribe las palabras:

<ul style="list-style-type: none"> • ¿Qué palabra empieza con pa y termina con to? <div style="text-align: center;">  <p>_____</p> </div>	<ul style="list-style-type: none"> • ¿Qué palabra empieza con ca y termina con sa? <div style="text-align: center;">  <p>_____</p> </div>
---	---

Observa la imagen y lee su contenido.

(También puedes pedir a tu maestro que lo lea en voz alta).

¡LÁVATE LAS MANOS!

¿Cuándo?

- Antes de comer.
- Después de usar transporte público.
- Antes y después de ir al baño
- Después de jugar en la calle.
- Después de haber tocado animales.
- Antes de tocar a bebés.



¿Por qué?

Lavarse las manos elimina gérmenes y previene enfermedades.



Yo te haré toser.

Yo te daré Dolor de garganta.

Yo te daré gripa.

Conmigo tendrás diarrea.

Yo doy conjuntivitis.

Yo contaminao heridas.

Yo podría causar la muerte.

Conmigo vomitarás.

Marca con una la respuesta correcta.

11.- ¿Qué representa la imagen anterior?

- Una revista.
- Una infografía.

Según la información que leíste:

12.- ¿Por qué es importante lavarse las manos?

- Para prevenir enfermedades.
- Para salir a jugar.

13.- ¿Cuándo es importante lavarse las manos?

- Antes de hacer la tarea.
- Antes de comer.

1 al 3.- Escribe sobre la línea **Mañana, Tarde, Noche**, en el lugar que corresponde.



Marca con una la respuesta correcta

4.- ¿Por qué de noche no se puede ver bien?

Porque ya es muy tarde.

Porque casi no hay luz.

5.- ¿Qué se necesita para ver bien los colores?

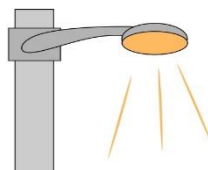
Luz artificial o natural.

Usar lentes.

6 al 11.- Marca con una las fuentes de luz natural y con una las artificiales.



Lampa



Poste de luz



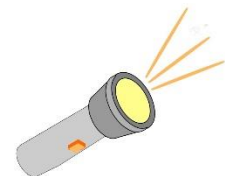
Sol



Vela




Rayo


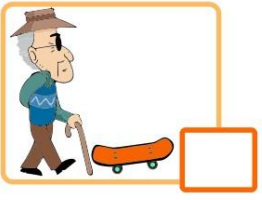


Linterna

12 al 15.- Marca con una las actividades que benefician la salud.



16 al 18.- Marca con una las acciones que ponen en riesgo la salud y la seguridad de otras personas.



19 y 20.- Marca con una el significado de los siguientes símbolos.

Poner la basura en su lugar.

No tirar basura.



Zona para bailar.

Riesgo de resbalar.



www.CicloEscolar.mx ® 2018

Este examen fue elaborado exclusivamente para www.cicloescolar.mx.

Si vas a compartir este material en tu página web, no borres esta leyenda y contarás con el permiso expreso del autor.

Visita: <https://www.cicloescolar.mx>

Primer y segundo grado:

Cada mes puedes descargar en www.cicloescolar.mx exámenes para la evaluación mensual y trimestralmente estará disponible el examen general por bloque.

Todos los exámenes están desarrollados con base a los planes y programas del Nuevo Modelo Educativo 2017.

Tercero a sexto grado:

Cada mes puedes descargar en www.cicloescolar.mx exámenes para la evaluación mensual y bimestralmente estará disponible el examen general por bloque.

Todos los exámenes están desarrollados con base a los planes y programas del Nuevo Modelo Educativo 2017.