

1 grado



EXAMEN MENSUAL FEBRERO

Nombre del Alumno:

Grado: Grupo: Fecha:

Nombre de la Escuela:

MATERIA	REACTIVOS	ACIERTOS	CALIFICACIÓN
Matemáticas	16		
Español	12		
Conocimiento del Medio	12		

Firma del padre o tutor: _____

Observa la imagen.

1 al 5.- Compara los precios y responde las preguntas.

• ¿Cuál cuesta más? _____

¿Cuánto más? _____



• ¿Cuál cuesta más? _____

¿Cuánto más? _____



Daniel compra




y paga con



¿Cuánto recibe de cambio? _____

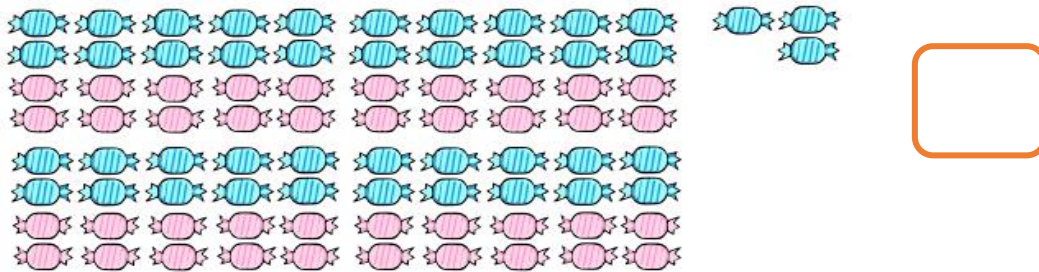
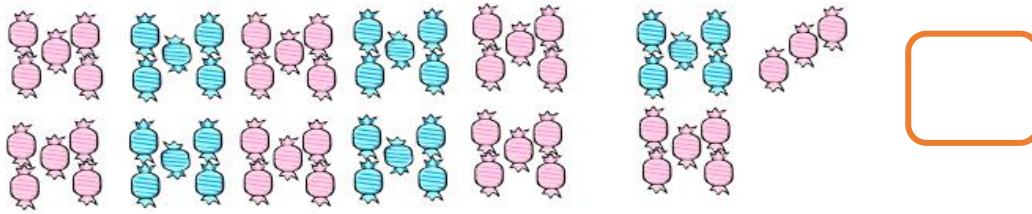
Observa la imagen.

6 al 10.- Dibuja una marca por cada fruta que hay en el puesto; al final suma las marcas.

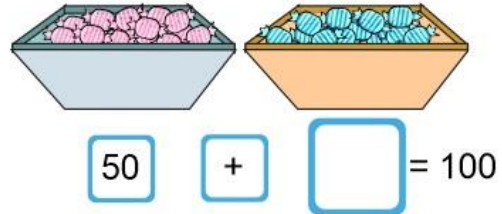
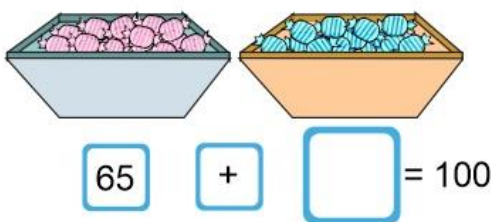


Fruta	Marcas	Total

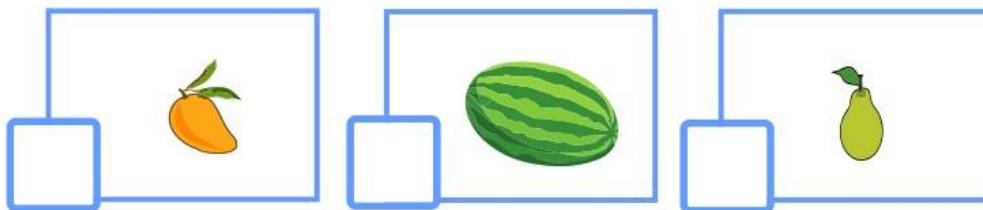
11 y 12.- Cuenta los dulces y escribe cuántos son.



13 y 14.- ¿Cuántos dulces hay en cada caja para que cada par sume 100?



15.- Marca con una el objeto más pesado.



16.- Marca con una el objeto menos pesado.



1 al 3.- Escribe las palabras.



Empieza con **co**, sigue con **ne** y termina con **jo**.



Empieza con **ma**, sigue con **le** y termina con **ta**.



Empieza con **pa**, sigue con **le** y termina con **ta**.

4 al 6.- Escribe palabras que terminen con:

des

mer

en

grand**des**

com**er**

duerm**en**

7 y 8.- Escribe el nombre de personas y de cosas que comiencen con la letra de la primera columna.

Letra	Nombre	Cosas
L		
T	Tomás	Torre

Marca con una la respuesta correcta.

9 y 10.- ¿Qué medios se usan para enterarse de las noticias?

- Radio.
- Internet.
- Revistas.
- Periódicos.
- Televisión.
- Lavanderías.



11.- ¿Cuál de las siguientes frases corresponde a una noticia?

- Capítulo 2. Una serie de eventos desafortunados con el tío Montgomery
- Escena 1. Pedro entra corriendo gritando. ¡El lobo, el lobo! ¡Auxilio!
- Había una vez un par de hermanos llamados Hansel y Gretel.
- Continúan las bajas temperaturas en el norte del país.

12.- Es el texto que describe las ilustraciones en las noticias.

- Mano de foto.
- Pie de foto.

1 al 3.- Marca con una las imágenes donde las personas cuidan y respetan las plantas.



Marca con una la respuesta correcta.

4 y 5.- ¿Qué necesitan las plantas para vivir?

- Sabritas.
- Agua.
- Luz solar.
- Refresco.

6.- ¿Por qué son importantes las plantas para los seres humanos y los animales?

- Porque son una fuente de alimento.
- Porque son muy bonitas y sirven de adorno.

7.- ¿Qué criterio se utilizó para agrupar las hojas?



- Su tamaño.
- Su forma.
- Su color.

8 al 10.- Une con una línea las actividades que se pueden hacer en cada edad.

Jugar

Ir a la escuela

Gatear

Subir escaleras

Ir a la escuela

Dormir



11 y 12.- Escribe dos cosas que antes no podías hacer y ahora sí.

A large rectangular area with a spiral binding on the left side. It contains five horizontal blue lines for writing, intended for the student to write two things they can now do that they couldn't do before.

www.CicloEscolar.mx ® 2018

Este examen fue elaborado exclusivamente para www.cicloescolar.mx.

Si vas a compartir este material en tu página web, no borres esta leyenda y contarás con el permiso expreso del autor.

Visita: <https://www.cicloescolar.mx>

Primer y segundo grado:

Cada mes puedes descargar en www.cicloescolar.mx exámenes para la evaluación mensual y trimestralmente estará disponible el examen general por bloque.

Todos los exámenes están desarrollados con base a los planes y programas del Nuevo Modelo Educativo 2017.

Tercero a sexto grado:

Cada mes puedes descargar en www.cicloescolar.mx exámenes para la evaluación mensual y bimestralmente estará disponible el examen general por bloque.

Todos los exámenes están desarrollados con base a los planes y programas del Nuevo Modelo Educativo 2017.