

2 grado



EXAMEN MENSUAL DICIEMBRE

Nombre del Alumno:

Grado: Grupo: Fecha:

Nombre de la Escuela:

MATERIA	REACTIVOS	ACIERTOS	CALIFICACIÓN
Matemáticas	25		
Español	13		
Conocimiento del Medio	13		

Firma del padre o tutor: _____

1 al 5.- Escribe el nombre de los meses que faltan.

enero	febrero		
mayo		julio	agosto
septiembre			diciembre

Observa el calendario y responde las preguntas marcando con una palomita la respuesta correcta.

Maria



OCTUBRE 2018 						
Dom	Lun	Mar	Mié	Jue	Vie	Sab
	1	2	3	4	5	6
7	8	9	10	11	12	13
14	15	16	17	18	19	20
21	22	23	24	25	26	27
28	29	30	31			

NOVIEMBRE 2018						
Dom	Lun	Mar	Mié	Jue	Vie	Sab
				1	2	3
4	5	6	7	8	9	10
11	12	13	14	15	16	17
18	19	20	21	22	23	24
25	26	27	28	29	30	

DICIEMBRE 2018 						
Dom	Lun	Mar	Mié	Jue	Vie	Sab
						1
2	3	4	5	6	7	8
9	10	11	12	13	14	15
16	17	18	19	20	21	22
23	24	25	26	27	28	29
30	31					

Daniela



6 al 8.- ¿Cuánto tiempo hay del cumpleaños de María al cumpleaños de Daniela?

En meses: 3 meses 1 mes 2 meses

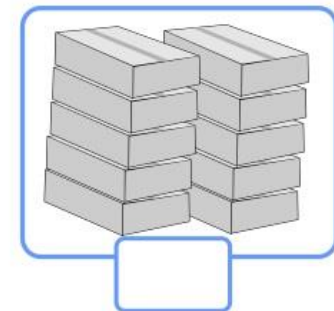
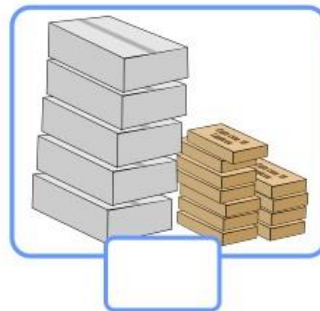
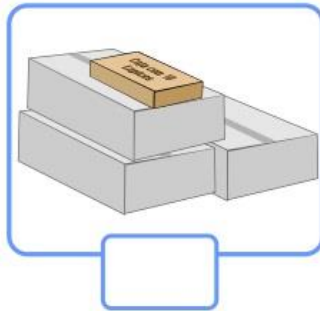
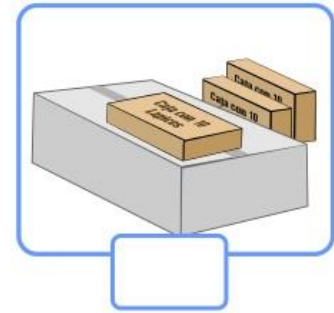
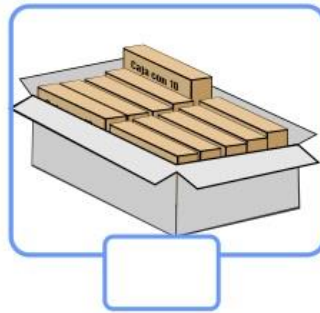

En semanas: 4 semanas 8 semanas 6 semanas

En días: 31 días 65 días 28 días

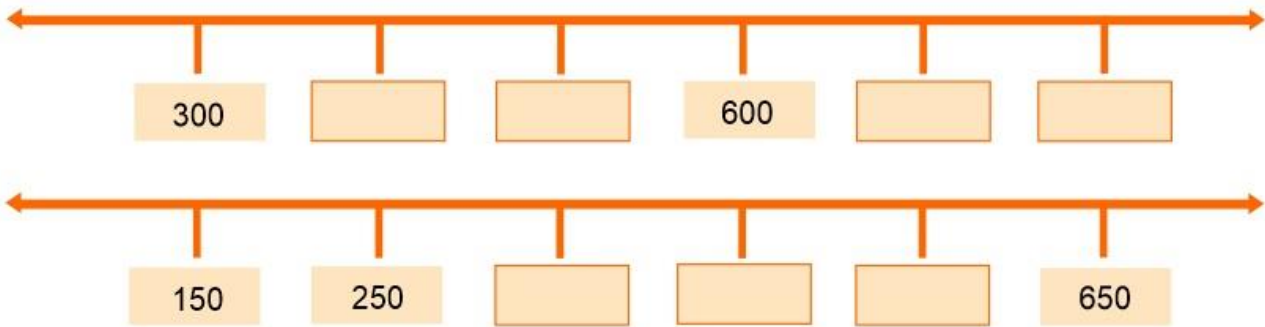
9 y 10.- De los siguientes acontecimientos, ¿cuál se coloca en el horario y cuál en el calendario?

Acontecimiento	Horario	Calendario
Educación física: Lunes y jueves 9:30	<input type="checkbox"/>	<input type="checkbox"/>
La primavera inicia el 21 de marzo	<input type="checkbox"/>	<input type="checkbox"/>

11 al 16.- Escribe el número de lápices que hay en cada caso.



17 al 20.- Escribe los números que faltan en cada recta numérica.



21 al 24.- Resuelve las operaciones.


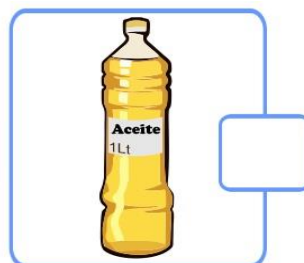
$100 + 10 = \square$

$200 + 100 = \square$

$100 + 4 = \square$

$900 + 100 = \square$

25.- Marca con una palomita los recipientes con la misma capacidad.

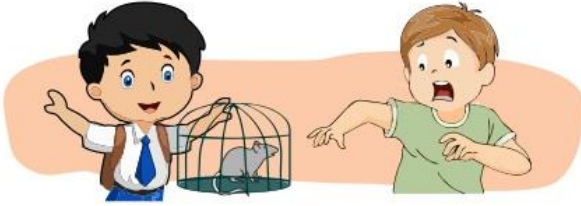


1 al 4.- Escribe los signos ¡! ¿? que hagan falta en las oraciones.

___ Quieres una manzana ___



___ Aleja esa cosa de aqui ___



___ Perdimos por tu culpa ___



___ Cual es tu fruta favorita ___



5 al 9.- Resuelve el crucigrama.

1 →

2 ↓

3 ↓

4 ↓

5 ↑

- 1-
- 2-
- 3-
- 4-
- 5-

Lee con atención el siguiente texto.

Los chapulines: Una tradición ancestral

Oaxaca

Por más de 1000 años los chapulines han sido parte de la gastronomía de México, especialmente del estado de **Oaxaca**, donde lo venden en todos los mercados. Se comen tostados, en tamales, en tacos, en quesadillas, en tlayudas o simplemente como botana, se sazonan con ajo, sal y limón y se acompañan con una salsa picante.

La palabra **chapulín** proviene del náhuatl y quiere decir: "Insecto que brinca como pelota de hule". Lo cocinaban los mexicas, zapotecas y mixtecas en el periodo prehispánico.

Los chapulines además de sabrosos son muy nutritivos pues aportan una gran cantidad de proteína sin grasas.



Marca con una palomita la respuesta correcta.

10.- ¿Qué tipo de texto es el anterior?

- Una ficha informativa.
- Una invitación de lectura.

11.- ¿De qué trata la ficha informativa?

- De los chapulines utilizados como alimento.
- De los chapulines y sus características.

12.- ¿Qué quiere decir la palabra chapulín?

- "Son sabrosos y nutritivos".
- "Insecto que brinca como pelota de hule".

13.- ¿De qué lugar se habla?

- Estado de México.
- Estado de Oaxaca.

1 al 3.- Escribe en cada recuadro el sonido que produce cada animal.







4.- Encierra el sentido que permite saber que sonidos producen los animales.



Olfato



Tacto



Vista



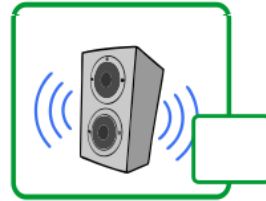
Oído



Gusto


5 al 9.- Marca con una palomita lo que se puede percibir con el sentido del oído.



















10 al 13.- ¿De qué manera cuidas tu sentido del oído?

Handwriting practice lines for the question: ¿De qué manera cuidas tu sentido del oído?

www.CicloEscolar.mx ® 2018

Este examen fue elaborado exclusivamente para www.cicloescolar.mx.

Si vas a compartir este material en tu página web, no borres esta leyenda y contarás con el permiso expreso del autor.

Visita: <https://www.cicloescolar.mx>

Primer y segundo grado:

Cada mes puedes descargar en www.cicloescolar.mx exámenes para la evaluación mensual y trimestralmente estará disponible el examen general por bloque.

Todos los exámenes están desarrollados con base a los planes y programas del Nuevo Modelo Educativo 2017.

Tercero a sexto grado:

Cada mes puedes descargar en www.cicloescolar.mx exámenes para la evaluación mensual y bimestralmente estará disponible el examen general por bloque.

Todos los exámenes están desarrollados con base a los planes y programas del Nuevo Modelo Educativo 2017.